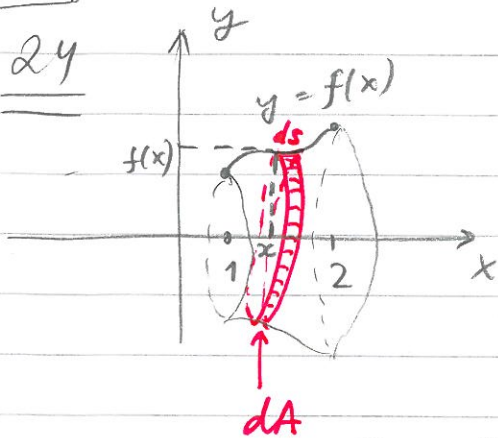


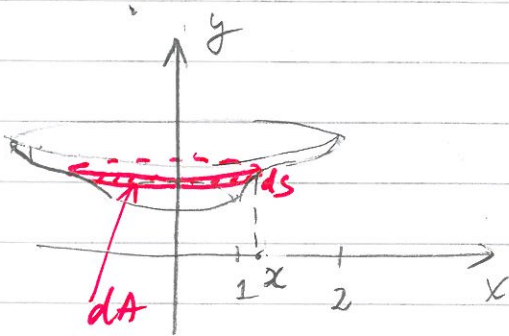
Lektion 4

[B7]

24



Mär $f(x)$ = avståndet till rotationsaxeln!



a) kring x-axeln!

dA - area av ett band med bredden ds (längden av en "liten bit" av kurvan $y=f(x)$) och längden $2\pi f(x)$.
Eftersom $ds = \sqrt{1+(f'(x))^2} dx$,

$$dA = 2\pi f(x) \sqrt{1+(f'(x))^2} dx$$

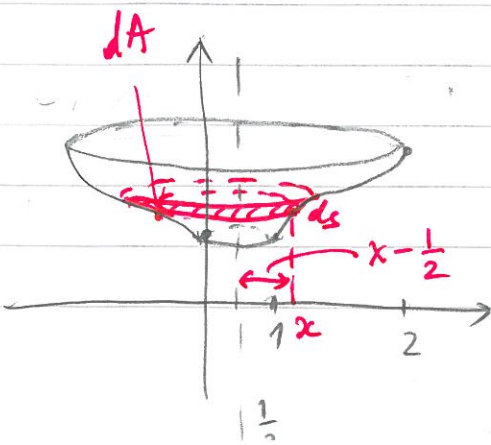
$$\Rightarrow A = 2\pi \int_1^2 f(x) \sqrt{1+(f'(x))^2} dx$$

b) kring y-axeln!

dA - area av ett band med bredden ds och längden $2\pi x$ (då avst. till rotationsaxeln är x).

$$dA = 2\pi x \sqrt{1+(f'(x))^2} dx$$

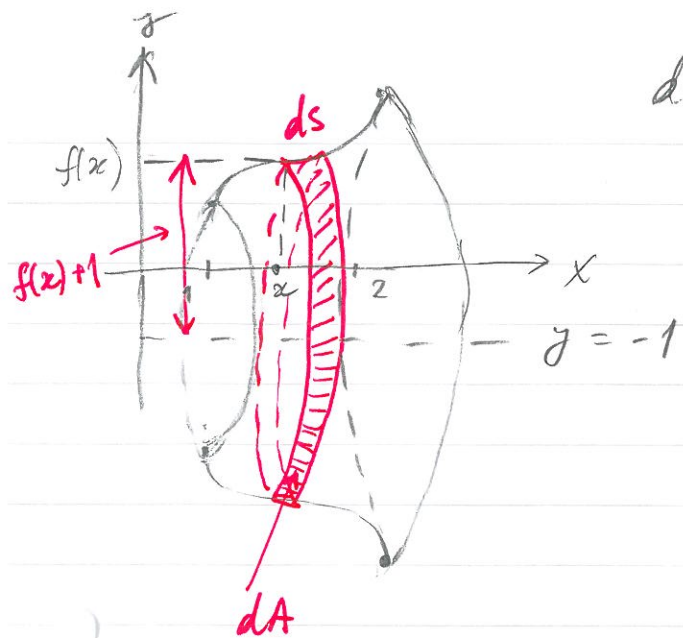
$$\Rightarrow A = 2\pi \int_1^2 x \sqrt{1+(f'(x))^2} dx$$



c) kring $x = \frac{1}{2}$!

dA - area av ett band med bredden ds och längden $2\pi(x - \frac{1}{2})$ (då avst. till rotationsaxeln är $x - \frac{1}{2}$) $\Rightarrow dA = 2\pi(x - \frac{1}{2}) \sqrt{1+(f'(x))^2} dx$

$$A = 2\pi \int_1^2 (x - \frac{1}{2}) \sqrt{1+(f'(x))^2} dx$$



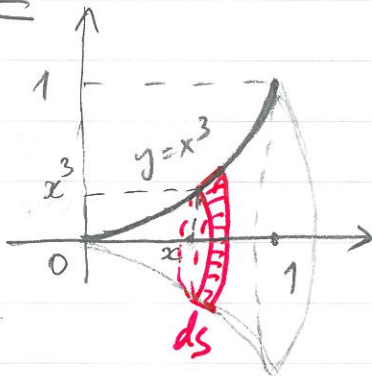
d) kring $y = -1$:

dA - area av ett band med bredden ds och längden $2\pi(f(x)+1)$ då avståndet till rotationsaxeln är $f(x)+1$.

$$dA = 2\pi(f(x)+1)\sqrt{1+(f'(x))^2} dx$$

$$\Rightarrow A = 2\pi \int_1^2 (f(x)+1)\sqrt{1+(f'(x))^2} dx.$$

25



dA - area av ett band med bredden $ds = \sqrt{1+((x^3)')^2} dx$ och längden $2\pi x^3$, då x^3 är avståndet till rotationsaxeln \Rightarrow

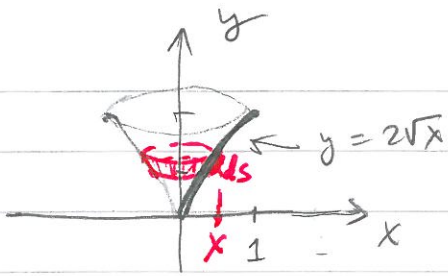
$$dA = 2\pi x^3 \sqrt{1+9x^4} dx,$$

$$A = 2\pi \int_0^1 x^3 \sqrt{1+9x^4} dx = \left[\begin{array}{l} 1+9x^4 = t \\ 36x^3 dx = dt \\ 1 \leq t \leq 10 \end{array} \right] =$$

$$= \frac{2\pi}{36} \int_1^{10} \sqrt{t} dt = \frac{2\pi}{9 \cdot 36} \left[\frac{2t^{3/2}}{3} \right]_1^{10} =$$

$$= \frac{\pi}{27} (10\sqrt{10} - 1).$$

26



dA - area av ett band med bredden

$$ds = \sqrt{1 + (2\sqrt{x})'}^2 dx$$

och längden $2\pi x \Rightarrow$

$$dA = 2\pi x \cdot \sqrt{1 + \frac{1}{x}} dx, \quad 0 \leq x \leq 1 \Rightarrow$$

$$A = 2\pi \int_0^1 x \cdot \sqrt{1 + \frac{1}{x}} dx = 2\pi \int_0^1 \sqrt{x^2 + x} dx =$$

$$= 2\pi \int_0^1 \sqrt{\left(x^2 + 2 \cdot \frac{1}{2}x + \frac{1}{4}\right) - \frac{1}{4}} dx =$$

$$= \frac{2\pi}{2} \int_0^1 \sqrt{\left(\frac{x + \frac{1}{2}}{\frac{1}{2}}\right)^2 - 1} dx =$$

$$= \pi \int_0^1 \sqrt{(2x+1)^2 - 1} dx = \left[\begin{array}{l} 2x+1=t \\ 2dx=dt \\ 1 \leq t \leq 3 \end{array} \right] =$$

$$= \frac{\pi}{2} \int_1^3 \sqrt{t^2 - 1} \cdot 1 dt$$

$$= \frac{\pi}{2} \left[t\sqrt{t^2-1} \right]_1^3 - \frac{\pi}{2} \int_1^3 \frac{t^2-1+1}{\sqrt{t^2-1}} dt =$$

$$= \frac{\pi}{2} \cdot 3 \cdot 2\sqrt{2} - \frac{\pi}{2} \int_1^3 \left(\sqrt{t^2-1} + \frac{1}{\sqrt{t^2-1}} \right) dt \Rightarrow$$

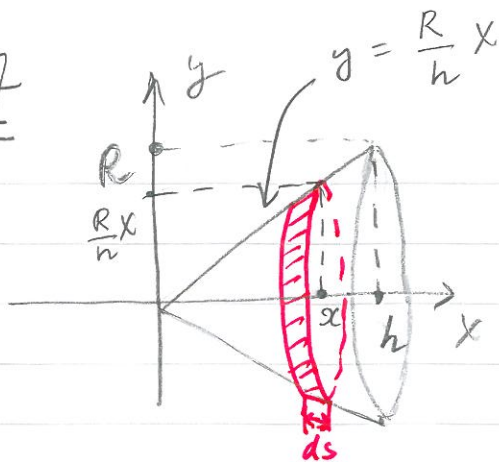
$$= \pi \cdot 3\sqrt{2} - \frac{\pi}{2} \int_1^3 \sqrt{t^2-1} - \frac{\pi}{2} \left[\ln |t + \sqrt{t^2-1}| \right]_1^3 =$$

$$= \pi \cdot 3\sqrt{2} - \frac{\pi}{2} \int_1^3 \sqrt{t^2-1} - \frac{\pi}{2} \ln(3 + 2\sqrt{2})$$

$$\Rightarrow \pi \int_1^3 \sqrt{t^2-1} dt = \pi \cdot 3\sqrt{2} - \frac{\pi}{2} \ln(3 + 2\sqrt{2}) \Rightarrow$$

$$A = \frac{\pi}{2} \int_1^3 \sqrt{t^2-1} dt = \frac{\pi}{2} \cdot 3\sqrt{2} - \frac{\pi}{4} \ln(3 + 2\sqrt{2}) \quad \boxed{3}$$

27



Man får konen genom att rotera en linje

$$y = \frac{R}{h}x, \quad 0 \leq x \leq h$$

runt x-axeln.

dA - arean av bandet, bredden är $ds = \sqrt{1 + \left(\frac{R}{h}x\right)'^2} dx$,

längden är $2\pi \cdot \frac{R}{h}x$.

$$dA = 2\pi \cdot \frac{R}{h}x \sqrt{1 + \frac{R^2}{h^2}} dx \Rightarrow$$

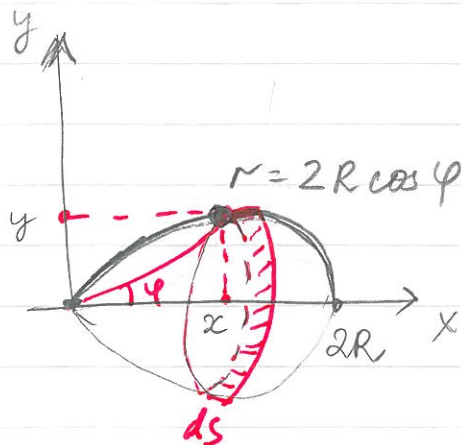
$$A = \int_0^h 2\pi \frac{R}{h} \cdot x \sqrt{1 + \frac{R^2}{h^2}} dx =$$

$$= 2\pi \cdot \frac{R}{h} \sqrt{1 + \frac{R^2}{h^2}} \left[\frac{x^2}{2} \right]_0^h =$$

$$= 2\pi \cdot \frac{R}{h} \sqrt{1 + \frac{R^2}{h^2}} \cdot \frac{h^2}{2}$$

$$= \pi R \sqrt{h^2 + R^2}$$

29



$$\varphi = 0 \Rightarrow r(\varphi) = 2R$$

$$\varphi = \frac{\pi}{2} \Rightarrow r(\varphi) = 0$$

Guldins regel:

$$dA = (\text{tyngdp. väg}) \cdot ds$$

Tyngdpunkten antas att ha koordinater $(x, y) = (2R \cos \varphi \cdot \cos \varphi, 2R \cos \varphi \sin \varphi)$

$$\text{I polära koordinater } ds = \sqrt{(r(\varphi))^2 + (r'(\varphi))^2} d\varphi \Rightarrow$$

$$dA = 2\pi \cdot 2R \cos \varphi \sin \varphi \cdot \sqrt{4R^2 \cos^2 \varphi + 4R^2 \sin^2 \varphi} d\varphi = \sqrt{4}$$

$$= 4\pi R \cos \varphi \sin \varphi \sqrt{4R^2} d\varphi = 8\pi R^2 \cos \varphi \sin \varphi d\varphi =$$

$$= 4\pi R^2 \sin 2\varphi d\varphi \Rightarrow$$

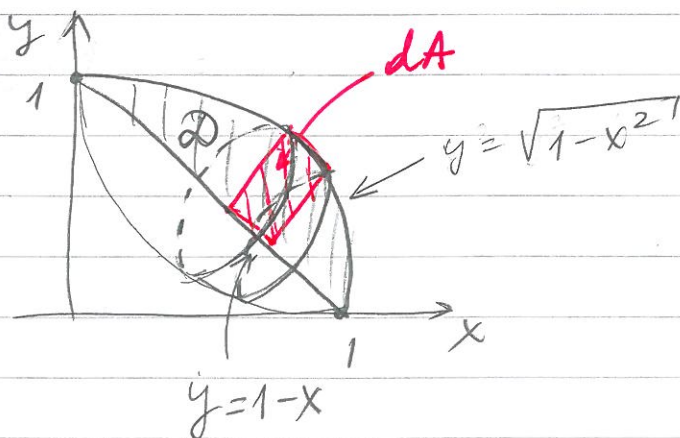
$$A = \int_0^{\pi/2} 4\pi R^2 \sin 2\varphi d\varphi = -\frac{4\pi R^2}{2} \left[\frac{\cos 2\varphi}{2} \right]_0^{\pi/2} =$$

$$= 2\pi R^2 + 2\pi R^2 = \underline{4\pi R^2}$$

Man kan använda formeln på s 333 istället!

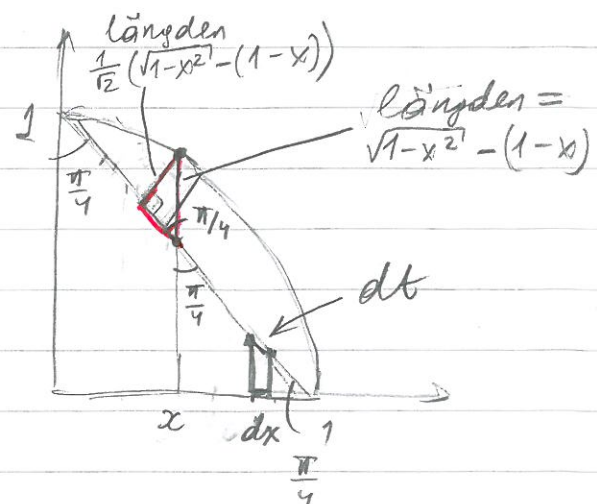
Extra (B7 28 - se Lektion 3)

B7 22

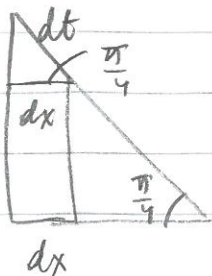


Använder Guldins regel!

$$dV = \left(\begin{array}{c} \text{tyngdp.} \\ \text{väg} \end{array} \right) \cdot dA$$



Vi antar att rotationsaxeln är uppdelad i lika stora små intervall $dt \Rightarrow$ vi har sambandet $dt = \sqrt{2} dx$.



Vi antar att dA är arean av en liten rektangel baserad på $dt \Rightarrow$ sidans längd är $\frac{\sqrt{1-x^2} - (1-x)}{\sqrt{2}}$, och tyngdpunktens avstånd till rotationsaxeln är $\frac{\sqrt{1-x^2} - (1-x)}{\sqrt{2}} \Rightarrow \sqrt{5}$

$$dV = \cancel{2\pi} \cdot \frac{\sqrt{1-x^2} - (1-x)}{\cancel{2\sqrt{2}}} \cdot \frac{\sqrt{1-x^2} - (1-x)}{\sqrt{2}} \cdot \sqrt{2} \cdot x$$

$$= \frac{\pi (\sqrt{1-x^2} - (1-x))^2}{\sqrt{2}}$$

$$V = \int_0^1 \frac{\pi (\sqrt{1-x^2} - (1-x))^2}{\sqrt{2}} dx =$$

$$= \frac{\pi}{\sqrt{2}} \int_0^1 \left((1-x^2) - 2(1-x)\sqrt{1-x^2} + (1-x)^2 \right) dx =$$

$$= \frac{\pi}{\sqrt{2}} \int_0^1 \left(1 - x^2 - 2\sqrt{1-x^2} + 2x\sqrt{1-x^2} + 1 - 2x + x^2 \right) dx$$

$$= \frac{\pi}{\sqrt{2}} \left[2x - x^2 \right]_0^1 - \pi\sqrt{2} \int_0^1 \sqrt{1-x^2} dx - \frac{\pi}{\sqrt{2}} \left[\frac{(1-x^2)^{3/2}}{3/2} \right]_0^1 =$$

area of $\frac{1}{4}$ circle at $x=1$

$$= \frac{\pi}{\sqrt{2}} (2-1) - \pi\sqrt{2} \cdot \frac{\pi \cdot 1^2}{4} + \frac{\pi}{\sqrt{2}} \cdot \frac{2}{3}$$

$$= \frac{\pi\sqrt{2}}{2} - \frac{\pi^2\sqrt{2}}{4} + \frac{\pi\sqrt{2}}{3} = \frac{5\pi\sqrt{2}}{6} - \frac{\pi^2\sqrt{2}}{4}$$